

新北市立鶯歌工商 108 學年度第 1 學期第一次段考試題卷

Yingge Vocational High School 1st Semester, 108 Academic Year, 1st Mid-Term Exam

考試科目 Subject	事務機器與 電腦應用	適用年級 Grade	二年級	命題教師 Exam Designer	陳怡琇
範圍 Target Lessons	單元一--三	班級 Class	忠/孝	姓名 Name	座號 No

一、選擇題 (每題 2 分 , 14%)

- () 30 度美工刀較常使用於切割哪種圖案？
①三角形 ②圓形 ③四角形 ④不規則形。
- () 我們在使用「紙張對折裁切法」裁紙時，應將美工刀推出多少長度較為適當？
①2-3 格 ②3-4 格 ③4-5 格 ④5-6 格。
- () 下列何為「直尺切割法」需準備的工具？
①直尺、切割墊、美工刀 ②直尺、美工刀 ③切割墊、美工刀 ④美工刀。
- () 我們課堂上使用的裁紙機「台座」是哪種材質？①鐵質 ②鋼製 ③木質
④以上皆非。
- () 使用裁紙機時，裁紙刀應如何拿起？①向內輕拉，再向上抬起
②向外輕拉，再向下抬起 ③向內輕拉，再向下抬起 ④向外輕拉，再向上抬起。
- () 下列使用裁紙機的方法或步驟，何者有誤？①向下裁切時，手臂需與身體靠攏 ②左手握刀，右手調整紙張 ③裁切線須對齊台座邊緣 ④裁切時，左手需放在紙上。
- () 下列何為「壓紋式無針釘書機」的缺點？①單次可訂張數較少 ②單次可訂張數較多 ③不會破壞紙張留下洞口 ④環保不浪費。

二、配合題 (每格 2 分 , 22%)

1. 請依序排列出「紙張對折裁切法」的步驟，在空格中填入代號。

- A 從右到左/左到右進行切割 B 封口面朝向自己，用刀背壓劃過對折邊
C 左手壓住紙張 D 將紙張對折 E 將美工刀插進紙張內
F 刀子與紙張平行 G 將美工刀推出適當長度

答：()→()→()→()→()→
()→()。

2. 請依照圖片配對釘書機的種類，在空格中填入代號。

- A 無針釘書機(壓紋式) B 無針釘書機(穿洞式) C 電動釘書機 D 傳統釘書機


	
<p>答：()</p>	<p>答：()</p>
	
<p>答：()</p>	<p>答：()</p>

三、簡答題 (每答案 2% , 16%)


1. 請圈出美工刀的「刀背」。



2. 請選出下列哪張圖片是正確的**刀背壓紙**的使用方式，在空格中打 V。



()



()


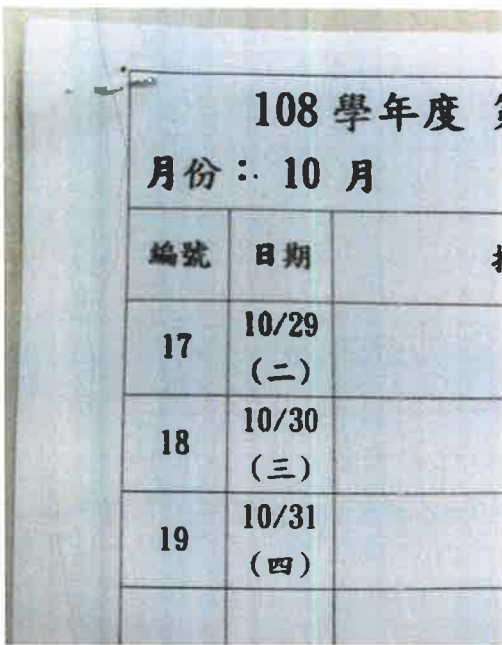
3. 請畫出課堂上**切割紙箱**時，應使用美工刀切割哪個部位。



4. 請圈出下張圖片中，電動釘書機「**手動**」的指示位置。





5. 請選出使用釘書機-正確紙張裝訂的方式，在空格中打 V。

	
()	()


6. 請圈出補充訂書針，應先從哪個地方放入，才能順利裝入。



7. 請選出下列哪張圖片有確實對齊裁切線，在空格中打 V。

	
()	()

8. 若要使用紙框對齊法裁切紙張，請你畫出「B5」的框框範圍。



四、實作題 (48%)

1. 請寫出課堂上進行的兩個實作考試的項目 (8%)

(1) _____、(2) _____。

2. 實作考試成績：

(1) _____ 分 $\times 20\% =$ 實得 _____ 分

(2) _____ 分 $\times 20\% =$ 實得 _____ 分