

新北市立鶯歌工商 113 學年度第 2 學期第一次段考試題卷

Yingge Vocational High School 2<sup>nd</sup> Semester, 113 Academic Year, 1<sup>st</sup> Mid-Term Exam

考試科目 Subject	基礎圖學實習		適用年級 Grade	廣設科、多媒科一年級		命題教師 Exam Designer	柯季芸	
範圍 Target Lessons	CH6、7	班級 Class		姓名 Name		座號 No.		





一、配合題(10 格，每格 3 分，共 30 分。)

下列表格為常用之尺度標註符號，請對照下方表格後填入相對應之英文代號，並請將答案寫在答案卷上。

### ▼代號參照表

A. 錐度	F. 板厚
B. 更改記號	G. 絕對真確尺度
C. 弧長	H. 球面半徑
D. 參考尺度	I. 未依比例尺度
E. 斜度	J. 去角

### ▼題目欄

1. (      )	$3 \times 45^\circ$	6. (      )	 1:5
2. (      )	SR35	7. (      )	(20)
3. (      )	t5	8. (      )	 40
4. (      )	<div style="border: 1px solid black; padding: 2px; display: inline-block;">30</div>	9. (      )	<u>30</u>
5. (      )		10. (      )	 1:5

二、作圖題 (3 題，詳細配分請見各題說明，共 70 分) 題目在答案卷上。

# 新北市立鶯歌工商 113 學年度第 2 學期第一次段考 答案卷

Yingge Vocational High School 2<sup>nd</sup> Semester, 113 Academic Year, 1<sup>st</sup> Mid-Term Exam

考試科目 Subject	基礎圖學實習	適用年級 Grade	廣設科一年級	命題教師 Exam Designer	柯季芸	成績 Score	
範圍 Target Lessons	Ch.6、Ch.7	班級 Class		姓名 Name	座號 No.		

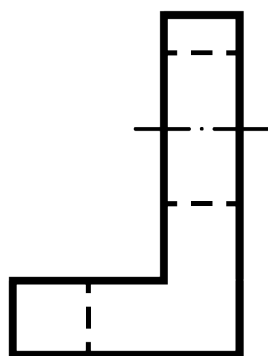
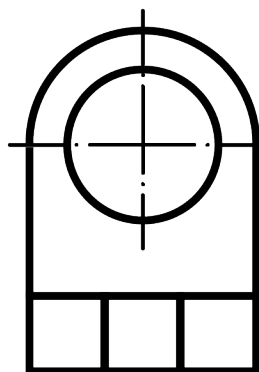
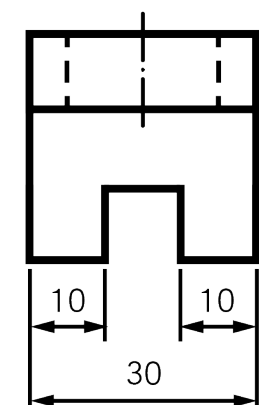
一、配合題(10 格，每格 3 分，共 30 分。) 請將答案寫在答案卷所對應題號之空格上。

	1	2	3	4	5	6	7	8	9	10
答案										

二、作圖題 (3 題，詳細配分請見各題說明，共 70 分)

\*作圖注意事項：完成圖需上墨線，作圖線必須擦拭乾淨。否則將扣分！

1. 下圖比例為 1:1，請依 CNS 規範，直接標註於下圖中完成尺度標註。(20 分)



2. 請接續第一題，依照 1:1 比例繪製其「等角圖」(30 分)  
(無需於立體圖標註尺寸，僅需繪製等角圖。)

請依照下圖三視圖，繪製「等角圖」(20 分)

單位：每格 1cm

